

3.1.2.3. Психометричні характеристики завдань сертифікаційної роботи

1. На картосхемі штрихуванням позначено регіон, до якого наприкінці XIX – на початку XX ст. спрямовулися іноземні інвестиції у



- А** видобування кам'яного вугілля та виплавку чорних металів.
Б вирощування цукрового буряку та виробництво цукру.
В розведення худоби та переробку м'яса й шкіри на експорт.
Г видобування нафти та виробництво нафтопродуктів.

Ключ	Відповіді учасників (%)				Не виконали завдання (%)	Складність (P-value)	Дискримінація (D-index)	Кореляція (Rit)
	А	Б	В	Г				
А	66,94	10,19	7,51	15,15	0,21	66,94	43,37	0,31

2. Напередодні Першої світової війни національні та спортивно-фізкультурні організації «Сокіл», «Січ», «Пласт» активно діяли на

- А** Волині.
Б Буковині.
В Галичині.
Г Закарпатті.

Ключ	Відповіді учасників (%)				Не виконали завдання (%)	Складність (P-value)	Дискримінація (D-index)	Кореляція (Rit)
	А	Б	В	Г				
В	13,43	20,22	44,08	22,01	0,26	44,08	31,50	0,25

3. Укажіть один із напрямів діяльності Союзу визволення України, що існував у 1914–1918 рр.

- А** допомога військовополоненим українцям
Б формування легіону Українських січових стрільців
В координація акцій української громади в Державній Думі
Г створення громадських організацій з допомоги біженцям

Ключ	Відповіді учасників (%)				Не виконали завдання (%)	Складність (P-value)	Дискримінація (D-index)	Кореляція (Rit)
	А	Б	В	Г				
А	26,32	52,75	10,81	9,90	0,22	26,32	3,82	0,1

Прочитайте фрагмент історичного документа та виконайте завдання 4–7.


«Пробувши кілька тижнів у Петрограді, втративши всяку надію одержати якусь відповідь від Временного Правительства, Делегація Центральної Ради після тих принижень, яких зазнала в передпокоях міністерських і Ради робітничих депутатів, повернулася, без всякої офіційної відповіді... до Києва. А в той час... Правительство, нарешті, вирішило й ухвалило одкинути домагання Української Центральної Ради».

4. У якому році відбулася подія, описана в джерелі?

- А** 1917 р.
- Б** 1918 р.
- В** 1919 р.
- Г** 1920 р.

Ключ	Відповіді учасників (%)				Не виконали завдання (%)	Складність (P-value)	Дискримінація (D-index)	Кореляція (Rit)
	А	Б	В	Г				
А	40,74	29,42	20,30	9,28	0,26	40,74	52,64	0,43

5. Хто з діячів, зображених на фото, очолював делегацію Української Центральної Ради до Петрограда?



Ключ	Відповіді учасників (%)				Не виконали завдання (%)	Складність (P-value)	Дискримінація (D-index)	Кореляція (Rit)
	А	Б	В	Г				
Г	34,44	12,54	22,00	30,63	0,39	30,63	30,78	0,28

6. Якою була головна вимога української делегації в Петрограді?

- А** надання незалежності Україні
- Б** визнання автономних прав України
- В** затвердження права мати власні збройні сили
- Г** конституційне закріплення прав і свобод людини

Ключ	Відповіді учасників (%)				Не виконали завдання (%)	Складність (P-value)	Дискримінація (D-index)	Кореляція (Rit)
	А	Б	В	Г				
Б	27,55	50,04	8,88	13,21	0,31	50,04	55,78	0,41

7. Описана в джерелі подія стала приводом до
- А початку Української революції.
 - Б проголошення Українською Центральною Радою незалежності УНР.
 - В оприлюднення Українською Центральною Радою Першого Універсалу.
 - Г першої війни радянської Росії проти УНР.

Ключ	Відповіді учасників (%)				Не виконали завдання (%)	Складність (P-value)	Дискримінація (D-index)	Кореляція (Rit)
	А	Б	В	Г				
В	23,03	27,44	39,49	9,75	0,30	39,49	38,14	0,28

8. Найбільш успішна наступальна операція Української Галицької армії, проведена на завершальному етапі українсько-польської війни 1918–1919 рр., увійшла в історію під назвою
- А «Зимовий похід».
 - Б «Брусилівський прорив».
 - В «Київська катастрофа».
 - Г «Чортківська офензива».

Ключ	Відповіді учасників (%)				Не виконали завдання (%)	Складність (P-value)	Дискримінація (D-index)	Кореляція (Rit)
	А	Б	В	Г				
Г	31,64	41,22	5,53	21,34	0,28	21,34	44,00	0,49

9. На картосхемі штрихуванням позначено територію



- А формування радянських повстанських загонів улітку 1918 р.
- Б контрольовану Добровольчою армією генерала А. Денікіна в жовтні 1919 р.
- В створення численних парафій Української автокефальної православної церкви в 1921–1930 рр.
- Г уражену масовим голодом 1921–1923 рр.

Ключ	Відповіді учасників (%)				Не виконали завдання (%)	Складність (P-value)	Дискримінація (D-index)	Кореляція (Rit)
	А	Б	В	Г				
Г	19,65	33,78	11,48	34,76	0,33	34,76	29,47	0,25

10. Який із зображених радянських плакатів відображає суть документа, уривок із якого процитовано:

«Це гасло [«техніка вирішує все»] допомогло нам створити найширшу технічну базу в усіх галузях діяльності... Це дуже добре. Але цього далеко і далеко недостатньо. Техніка без людей, які оволоділи технікою, мертва. Техніка на чолі з людьми, котрі оволоділи технікою, може й повинна творити чудеса. Ось чому тепер наголос має бути зроблений на працівниках, які оволоділи технікою...»?



Будуй заводи-гіганти!
Купуй 3-ю позику індустріалізації!



Дамо мільйони кваліфікованих робітничих кадрів
для нових 518 фабрик і заводів!



Дамо для соціалізму, що будується,
у 1931 р. 8 млн тонн чавуну



І тут, і там, і скрізь — будуємо соціалізм!

Ключ	Відповіді учасників (%)				Не виконали завдання (%)	Складність (P-value)	Дискримінація (D-index)	Кореляція (Rit)
	А	Б	В	Г				
Б	15,37	73,90	4,77	5,75	0,22	73,90	40,93	0,31

11. Історик Я. Грицак у праці «Нариси історії України» зазначив:

«...Політика стосовно національних меншин стала пробним каменем для демократичного устрою тих держав, які виникли в Центральній та Східній Європі після Першої світової війни».

Яка країна, на думку автора та більшості істориків, у період 1920-х – 1930-х рр. стала «єдиною, яка більш-менш задовільно склала цей іспит на демократію...» стосовно українців?

- А** Чехословаччина
- Б** Польща
- В** Румунія
- Г** Угорщина

Ключ	Відповіді учасників (%)				Не виконали завдання (%)	Складність (P-value)	Дискримінація (D-index)	Кореляція (Rit)
	А	Б	В	Г				
А	34,93	33,30	12,48	18,94	0,34	34,93	36,95	0,33

12. Договір про ненапад між СРСР і Німеччиною та таємний протокол до нього («пакт Молотова–Ріббентропа») було підписано

- А** 15 березня 1939 р.
- Б** 23 серпня 1939 р.
- В** 17 вересня 1939 р.
- Г** 2 листопада 1939 р.

Ключ	Відповіді учасників (%)				Не виконали завдання (%)	Складність (P-value)	Дискримінація (D-index)	Кореляція (Rit)
	А	Б	В	Г				
Б	15,68	53,91	19,72	10,41	0,28	53,91	52,67	0,39

13. Що стало результатом наступальних операцій радянських військ, здійснених у серпні–грудні 1943 р.?

- А** вигнання німецьких військ з Лівобережної України та Донбасу, перенесення бойових дій на Правобережну Україну
- Б** звільнення Одеси, створення сприятливих умов для вигнання німецьких і румунських військ з Південної України та Кримського півострова
- В** завершення вигнання німецьких військ та їх союзників із всієї території України в її довоєнних кордонах
- Г** вигнання з Правобережної України та Молдавії німецьких і румунських військ, перенесення бойових дій на територію Румунії та Болгарії

Ключ	Відповіді учасників (%)				Не виконали завдання (%)	Складність (P-value)	Дискримінація (D-index)	Кореляція (Rit)
	А	Б	В	Г				
А	49,66	22,37	17,81	9,84	0,32	49,66	39,89	0,30

14. Якою цифрою на картосхемі позначено рейхскомісаріат «Україна» – адміністративно-територіальну одиницю німецького окупаційного цивільного управління в роки Другої світової війни?

- А 1
- Б 2
- В 3
- Г 4



Ключ	Відповіді учасників (%)				Не виконали завдання (%)	Складність (P-value)	Дискримінація (D-index)	Кореляція (Rit)
	А	Б	В	Г				
В	21,29	10,05	56,84	11,53	0,29	56,84	40,65	0,31

15. Що стало одним із наслідків реалізації в 40-х рр. ХХ ст. урядом Польщі заходів, про які йдеться в уривку з документа:

«...1. Швидкими темпами переселити українців і змішані сім'ї на повернуті території (насамперед у Північну Пруссію), не створюючи компактні групи проживання й не ближче ніж 100 км від кордону...»?

- А загострення дипломатичних відносин з Українською РСР
- Б часткова асиміляція українців у польському середовищі
- В нормалізація стосунків влади з українською меншиною
- Г розширення соціальної бази підпілля ОУН і загонів УПА

Ключ	Відповіді учасників (%)				Не виконали завдання (%)	Складність (P-value)	Дискримінація (D-index)	Кореляція (Rit)
	А	Б	В	Г				
Б	19,09	50,04	10,83	19,71	0,32	50,04	35,26	0,24

16. Укажіть один із заходів розв'язання владою проблем відбудови важкої промисловості України в другій половині 1940-х – на початку 1950-х рр.

- А створення системи раднаргоспів
- Б запровадження матеріальних стимулів праці
- В використання трудового ентузіазму робітників
- Г широка виробнича інтеграція з провідними країнами Заходу

Ключ	Відповіді учасників (%)				Не виконали завдання (%)	Складність (P-value)	Дискримінація (D-index)	Кореляція (Rit)
	А	Б	В	Г				
В	37,92	15,89	30,12	15,78	0,29	30,12	29,81	0,28


17. Метою реалізації хрущовських надпрограм у сільському господарстві було
- А руйнування колгоспно-радгоспної системи виробництва.
 - Б стрімке збільшення виробництва сільгосппродукції.
 - В подолання наслідків голоду 1946–1947 рр.
 - Г ліквідація аграрного перенаселення.

Ключ	Відповіді учасників (%)				Не виконали завдання (%)	Складність (P-value)	Дискримінація (D-index)	Кореляція (Rit)
	А	Б	В	Г				
Б	13,92	63,50	13,96	8,42	0,20	63,50	41,83	0,30

18. «Кожний, хто живе на Радянській Україні, любить її, з гордістю говорить: “моя Україна”, “наша Україна”. І це цілком природно і закономірно. Тут ми народилися, вирости як громадяни, будівники комунізму...» – це уривок із книги
- А Петра Шелеста.
 - Б Миколи Руденка.
 - В В’ячеслава Чорновола.
 - Г Володимира Щербицького.

Ключ	Відповіді учасників (%)				Не виконали завдання (%)	Складність (P-value)	Дискримінація (D-index)	Кореляція (Rit)
	А	Б	В	Г				
А	31,46	17,37	29,21	21,72	0,24	31,46	32,21	0,29

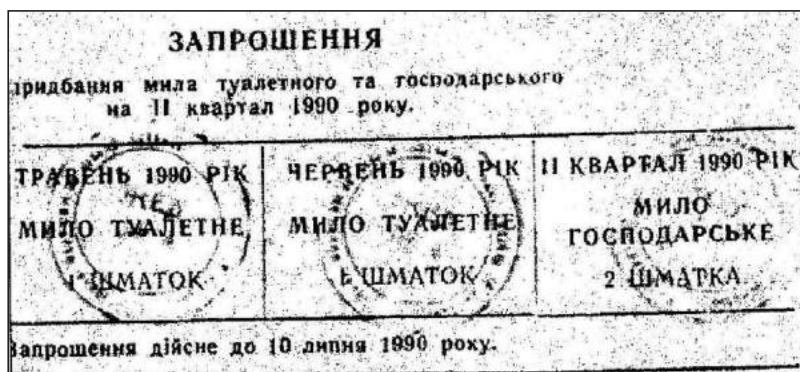
19. Із якою подією пов’язані діячі, зображені на фото?



- А створенням Української Гельсінської спілки
- Б заснуванням Української робітничо-селянської спілки
- В повстанням політичних в’язнів у Норільському концтаборі
- Г акцією протесту в кінотеатрі «Україна» проти арештів дисидентів

Ключ	Відповіді учасників (%)				Не виконали завдання (%)	Складність (P-value)	Дискримінація (D-index)	Кореляція (Rit)
	А	Б	В	Г				
Г	35,53	17,92	9,16	37,10	0,29	37,10	23,18	0,2

20. Зображений на фото документ, що видавався місцевими радами в Україні, свідчить про



- А занепад «самвидаву».
- Б розквіт епохи «застою».
- В запровадження політики «гласності».
- Г провал політики «перебудови».

Ключ	Відповіді учасників (%)				Не виконали завдання (%)	Складність (P-value)	Дискримінація (D-index)	Кореляція (Rit)
	А	Б	В	Г				
Г	15,54	29,35	15,72	39,15	0,25	39,15	49,01	0,39

21. Яке питання було винесено на Всеукраїнський референдум 1 грудня 1991 р.?

- А «Чи вважаєте Ви необхідним збереження СРСР як оновленої федерації рівноправних суверенних республік?»
- Б «Чи підтверджуєте Ви Акт проголошення незалежності України?»
- В «Чи вважаєте Ви необхідним заборонити Комуністичну партію Радянського Союзу?»
- Г «Чи підтверджуєте Ви Угоду про створення Співдружності Незалежних Держав?»

Ключ	Відповіді учасників (%)				Не виконали завдання (%)	Складність (P-value)	Дискримінація (D-index)	Кореляція (Rit)
	А	Б	В	Г				
Б	14,41	62,99	9,07	13,30	0,24	62,99	28,45	0,2


22. «Не зміна облич при владі, а зміна системи, і найголовніше – пошук інструментарію для зміни цієї системи», на думку письменниці та публіциста О. Забужко, стало гаслом

- А «революції згори».
- Б «Революції гідності».
- В «культурної революції».
- Г «Помаранчевої революції».

Ключ	Відповіді учасників (%)				Не виконали завдання (%)	Складність (P-value)	Дискримінація (D-index)	Кореляція (Rit)
	А	Б	В	Г				
Б	10,53	49,07	12,70	27,37	0,33	49,07	23,36	0,2

23. Характеризуючи події, відображені на карикатурі, доцільно використовувати поняття

- А «анексія».
- Б «депортація».
- В «мобілізація».
- Г «лібералізація».



Ключ	Відповіді учасників (%)				Не виконали завдання (%)	Складність (P-value)	Дискримінація (D-index)	Кореляція (Rit)
	А	Б	В	Г				
А	69,13	7,10	11,80	11,70	0,27	69,13	56,34	0,41

24. Установіть відповідність між подією періоду боротьби за збереження державної незалежності України (1918–1921 рр.) та її наслідком.

- | | |
|--|---|
| 1 розгром Добровольчої армії генерала А. Денікіна | А повалення режиму гетьмана П. Скоропадського |
| 2 проголошення Української Держави | Б припинення збройної боротьби за незалежність України |
| 3 утворення Західноукраїнської Народної Республіки | В відновлення радянської влади на території України |
| 4 утворення Директорії УНР | Г запровадження державної монополії на продаж хліба, цукру, спирту; заборона на вивіз нафти |
| | Д відновлення поміщицького землеволодіння |

Ключ	Розподіл учасників (%) за кількістю набраних балів					Складність (P-value)	Дискримінація (D-index)	Кореляція (Rit)
	0	1	2	3	4			
ВДГА	33,99	33,39	17,31	9,48	5,82	29,94	37,31	0,55

25. Установіть відповідність між країною та подією суспільно-політичного життя, що відбулася на українських землях, які входили до її складу в 1920-х – 1930-х рр.

- | | | | |
|----------|---------------------------|----------|---|
| 1 | Польська Республіка | А | створення Є. Коновальцем Організації українських націоналістів (ОУН) |
| 2 | Королівство Румунія | Б | проголошення автономії Підкарпатської Русі |
| 3 | Чехо-Словацька Республіка | В | судовий процес над членами ОУН у справі вбивства міністра внутрішніх справ Б. Перацького |
| 4 | Українська СРР | Г | судовий процес над представниками української інтелігенції в справі «Спілки визволення України» |
| | | Д | створення В. Залозецьким Української національної партії (УНП) |

Ключ	Розподіл учасників (%) за кількістю набраних балів					Складність (P-value)	Дискримінація (D-index)	Кореляція (Rit)
	0	1	2	3	4			
ВДБГ	38,26	34,83	16,16	7,36	3,39	25,70	26,12	0,43

26. Установіть відповідність між періодом в історії України та поняттями й термінами, які потрібно використовувати, характеризуючи його.

- | | | | |
|----------|---|----------|--|
| 1 | післявоєнна відбудова та розвиток (1945 – початок 1950-х рр.) | А | «відлига», «політична реабілітація», «раднаргоспи», «шістдесятники» |
| 2 | Україна в умовах десталінізації (1953–1964 рр.) | Б | «самвидав», «номенклатура», «дефіцит», «правозахисник» |
| 3 | загострення кризи радянської системи (середина 1960-х – початок 1980-х рр.) | В | «новий порядок», «радянська», «план “Ост”», «депортація» |
| 4 | Україна в умовах незалежності (1991 р. – початок ХХІ ст.) | Г | «приватизація», «тимчасово окупована територія», «антитерористична операція (АТО)», «європейська інтеграція» |
| | | Д | «“саморозпуск” УГКЦ», «ждановщина», «космополітизм», «лисенківщина» |

Ключ	Розподіл учасників (%) за кількістю набраних балів					Складність (P-value)	Дискримінація (D-index)	Кореляція (Rit)
	0	1	2	3	4			
ДАБГ	17,63	27,73	23,43	13,12	18,09	46,58	57,89	0,64

27. Установіть послідовність утворення органів державної влади.

- | | |
|----------|--|
| А | Рада міністрів Української Держави |
| Б | Рада народних комісарів Української Соціалістичної Радянської Республіки |
| В | Державний секретаріат Західноукраїнської Народної Республіки |
| Г | Генеральний секретаріат Української Центральної Ради |

Ключ	Розподіл учасників (%) за кількістю набраних балів				Складність (P-value)	Дискримінація (D-index)	Кореляція (Rit)
	0	1	2	3			
ГАВБ	55,05	30,27	5,80	8,88	22,84	38,95	0,54

28. Установіть послідовність ухвалення документів, уривки з яких процитовано.

- А** «Підтверджуючи відданість України ідеалам та принципам, які є спільним надбанням європейських народів... Верховна Рада України постановляє: Приєднатися від імені України до Статуту Ради Європи...»
- Б** «Верховна Рада України постановляє: 1. Ввести в дію Закон України “Про Збройні Сили України” з моменту його прийняття. 2. Доручити Кабінету Міністрів України розробити пропозиції щодо загальної структури Збройних Сил України...»
- В** «На виконання Закону України “Про військово-цивільні адміністрації” постановляю: 1. Утворити: ...Артемівську районну військово-цивільну адміністрацію..., Костянтинівську районну військово-цивільну адміністрацію..., Ясинуватську районну військово-цивільну адміністрацію Донецької області...»
- Г** «Верховна Рада України постановляє: ...Прийняти Конституцію України... Визнати такою, що втратила чинність, Конституцію (Основний закон) України від 20 квітня 1978 року з наступними змінами і доповненнями...»

Ключ	Розподіл учасників (%) за кількістю набраних балів				Складність (P-value)	Дискримінація (D-index)	Кореляція (Rit)
	0	1	2	3			
БАГВ	52,71	37,64	3,93	5,72	20,88	20,29	0,34

29. Укажіть характерні риси тоталітарного режиму в Українській РСР у 1930-х роках.

- панування однопартійної системи, зрощування партійного та державного апаратів, культ вождя
- співіснування державного та приватного секторів економіки, підтримка підприємницької активності громадян
- усеохоплюючий політико-ідеологічний контроль держави над усіма сферами життя суспільства
- існування незалежних профспілок, неурядових громадських організацій та інституцій
- одержавлення економіки, її милітаризація та бюрократизація, використання примусової праці
- визнання абсолютної цінності людської особистості, дотримання владою принципу «особа важливіша за державу»
- політичний плюралізм, активна діяльність партій, які є виразниками інтересів різних верств суспільства

Ключ	Розподіл учасників (%) за кількістю набраних балів				Складність (P-value)	Дискримінація (D-index)	Кореляція (Rit)
	0	1	2	3			
135	7,64	17,35	26,98	48,04	71,81	48,55	0,49

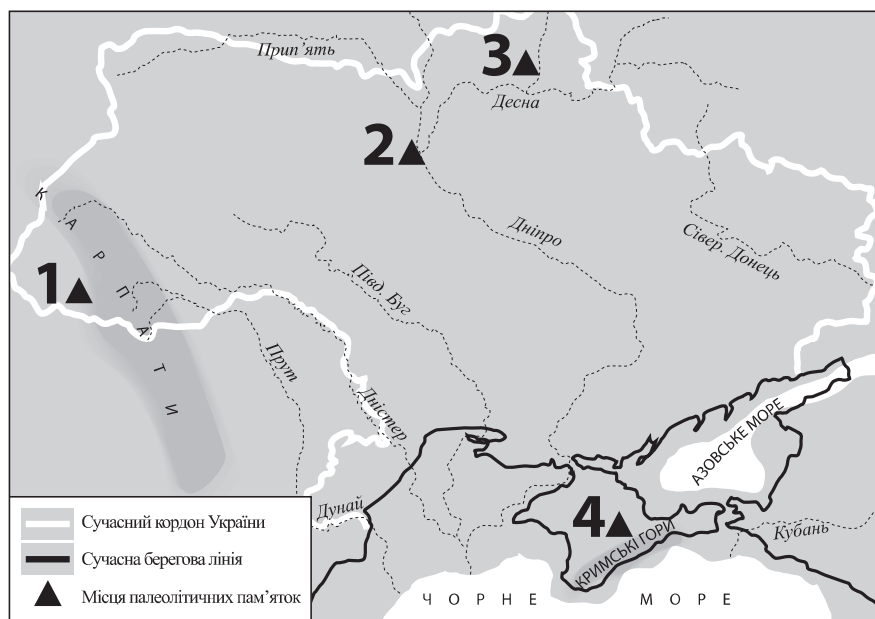
30. Колективізація в Західній Україні в другій половині 1940-х – 1950-х рр. проводилася з метою

- 1 утвердження соціальної структури радянського суспільства.
- 2 уніфікації системи господарювання на всій території УРСР.
- 3 зламу приватновласницької психології місцевого населення.
- 4 реалізації угоди з обміну населенням між УРСР і Польщею.
- 5 приховування наслідків Голодомору 1932–1933 рр.
- 6 підготовки масової депортації українців до Сибіру.
- 7 виконання умов для отримання допомоги за «планом Маршалла».

Ключ	Розподіл учасників (%) за кількістю набраних балів				Складність (P-value)	Дискримінація (D-index)	Кореляція (Rit)
	0	1	2	3			
123	4,74	37,92	39,75	17,59	56,73	35,83	0,51

31. Якою цифрою на картосхемі позначено місцезнаходження Мізинської стоянки – археологічної пам'ятки доби палеоліту?

- А 1
- Б 2
- В 3
- Г 4



Ключ	Відповіді учасників (%)				Не виконали завдання (%)	Складність (P-value)	Дискримінація (D-index)	Кореляція (Rit)
	А	Б	В	Г				
В	18,85	26,66	35,06	16,92	2,51	35,06	25,81	0,22

32. Поляни, сіверяни, древляни – це назви

- А племінних союзів східних слов'ян.
- Б язичницьких ідолів давніх слов'ян.
- В основних соціальних груп слов'ян.
- Г варязьких факторій на землях слов'ян.

Ключ	Відповіді учасників (%)				Не виконали завдання (%)	Складність (P-value)	Дискримінація (D-index)	Кореляція (Rit)
	А	Б	В	Г				
А	57,90	8,13	26,84	4,78	2,36	57,90	41,31	0,31

33. За правління якого князя відбулася подія, описана в уривку з історичного джерела:

«І за цим священним правилом – єпископи поставили Іларіона, русина, митрополитом Києва і всієї землі Руської...»?

- А Ігоря
- Б Святослава
- В Володимира Великого
- Г Ярослава Мудрого

Ключ	Відповіді учасників (%)				Не виконали завдання (%)	Складність (P-value)	Дискримінація (D-index)	Кореляція (Rit)
	А	Б	В	Г				
Г	8,72	14,89	40,16	33,84	2,39	33,84	25,07	0,24

34. Пріоритет у зовнішній політиці князя Данила Романовича Галицького в другій половині 1240-х – 1260-х рр. полягав у

- А розширенні території держави за рахунок володінь Угорщини.
- Б здобутті великокнязівського столу в Литві для свого сина Лева.
- В зміцненні союзу з Польщею для відсічі агресії Тевтонського ордену.
- Г створенні коаліції європейських держав для боротьби із Золотою Ордою.

Ключ	Відповіді учасників (%)				Не виконали завдання (%)	Складність (P-value)	Дискримінація (D-index)	Кореляція (Rit)
	А	Б	В	Г				
Г	22,50	18,82	21,67	34,52	2,49	34,52	36,92	0,33

35. Проявом впливу на Русь якої культури є ікони, зображені на фото?



- А іудейської
- Б візантійської
- В мусульманської
- Г західноєвропейської

Ключ	Відповіді учасників (%)				Не виконали завдання (%)	Складність (P-value)	Дискримінація (D-index)	Кореляція (Rit)
	А	Б	В	Г				
Б	9,12	57,20	5,52	25,78	2,39	57,20	61,69	0,44


36. Коли відбулася подія, наслідки якої описано в уривку з історичного джерела: «Магнати і шляхта змусили юну королеву [Ядвігу] в державних інтересах Польщі відмовитися від нареченого з австрійського дому і вийти заміж за литовського князя Ягайла...»?

- А 1385 р.
- Б 1413 р.
- В 1569 р.
- Г 1596 р.

Ключ	Відповіді учасників (%)				Не виконали завдання (%)	Складність (P-value)	Дискримінація (D-index)	Кореляція (Rit)
	А	Б	В	Г				
А	35,09	26,88	29,52	5,96	2,54	35,09	49,70	0,43

37. Пам'ятка архітектури Львова, зображена на фото, пов'язана із життєдіяльністю міської громади

- А євреїв.
- Б вірмен.
- В німців.
- Г поляків.



Ключ	Відповіді учасників (%)				Не виконали завдання (%)	Складність (P-value)	Дискримінація (D-index)	Кореляція (Rit)
	А	Б	В	Г				
Б	26,46	24,15	4,17	42,79	2,44	24,15	37,01	0,39

38. Затвердження в 70-х рр. XVI ст. урядом Речі Посполитої створення реєстрового війська стало політичним і правовим актом

- А об'єднання інтересів польської шляхти та козацтва.
- Б завершення польсько-українського протистояння.
- В припинення масового покозачення селян і міщан.
- Г визнання козацтва новим соціальним станом.

Ключ	Відповіді учасників (%)				Не виконали завдання (%)	Складність (P-value)	Дискримінація (D-index)	Кореляція (Rit)
	А	Б	В	Г				
Г	24,88	17,73	18,43	36,47	2,48	36,47	50,11	0,41

39. Укажіть портрет гетьмана Петра Конашевича-Сагайдачного.



Ключ	Відповіді учасників (%)				Не виконали завдання (%)	Складність (P-value)	Дискримінація (D-index)	Кореляція (Rit)
	А	Б	В	Г				
В	12,55	8,03	60,89	16,06	2,47	60,89	49,71	0,37

40. Союзницькі відносини, що склалися між Військом Запорозьким і Московським царством, відкривали перед гетьманом Б. Хмельницьким перспективу довести до переможного кінця війну проти

- А Речі Посполитої.
- Б Османської імперії.
- В Молдавського князівства.
- Г Шведського королівства.

Ключ	Відповіді учасників (%)				Не виконали завдання (%)	Складність (P-value)	Дискримінація (D-index)	Кореляція (Rit)
	А	Б	В	Г				
А	54,08	29,88	6,96	6,65	2,42	54,08	53,38	0,40

41. Перемога українсько-татарських військ над московськими військами в битві під Конотопом відбулася

- А 1648 р.
- Б 1649 р.
- В 1651 р.
- Г 1659 р.

Ключ	Відповіді учасників (%)				Не виконали завдання (%)	Складність (P-value)	Дискримінація (D-index)	Кореляція (Rit)
	А	Б	В	Г				
Г	18,63	28,25	26,15	24,48	2,50	24,48	40,46	0,43

42. *«Нині цей край зруйнований, а війна, ніби гангрена, що все пожирає, обернула найродючішу частину Європи на спорожнілі поля, зарослі бур'яном руїни, на покинуті жителями міста...»*, – так іноземний автор, характеризуючи Руїну, описав її
- А події.
 - Б причини.
 - В наслідки.
 - Г історичне значення.

Ключ	Відповіді учасників (%)				Не виконали завдання (%)	Складність (P-value)	Дискримінація (D-index)	Кореляція (Rit)
	А	Б	В	Г				
В	9,04	5,00	78,55	5,03	2,38	78,55	35,01	0,26

43. Що стало результатом прийняття козаками умов, висунених царським урядом: *«...Жити запорожцям у місцях, де розорено в 1709 році їхнє житло. Користуватися їм промислами... Зберігати їм вірність престолу російському... Бути їм в залежності від головнокомандуючого генерала в Малій Русі визначеного...»?*
- А відновлення гетьманства
 - Б заснування Нової (Підпільненської) Січі
 - В утворення першої Малоросійської колегії
 - Г ліквідація Правління гетьманського уряду

Ключ	Відповіді учасників (%)				Не виконали завдання (%)	Складність (P-value)	Дискримінація (D-index)	Кореляція (Rit)
	А	Б	В	Г				
Б	17,07	27,65	30,62	22,21	2,46	27,65	7,42	0,05

44. Створення яких губерній у складі Російської імперії стало наслідком третього поділу Речі Посполитої?
- А Подільської, Волинської, Київської
 - Б Бессарабської, Холмської, Полтавської
 - В Чернігівської, Полтавської, Харківської
 - Г Херсонської, Таврійської, Катеринославської

Ключ	Відповіді учасників (%)				Не виконали завдання (%)	Складність (P-value)	Дискримінація (D-index)	Кореляція (Rit)
	А	Б	В	Г				
А	39,48	20,55	20,22	17,29	2,46	39,48	19,27	0,2

45. Пам'ятка архітектури, зображена на фото, є окрасою міста

- А Київ.
- Б Львів.
- В Одеса.
- Г Харків.



Ключ	Відповіді учасників (%)				Не виконали завдання (%)	Складність (P-value)	Дискримінація (D-index)	Кореляція (Rit)
	А	Б	В	Г				
А	44,76	20,77	7,17	24,74	2,56	44,76	18,06	0,12

46. Рух декабристів був складовою

- А українського національно-визвольного руху.
- Б польського національно-визвольного повстання.
- В російського дворянського опозиційного руху.
- Г європейської «весни народів».

Ключ	Відповіді учасників (%)				Не виконали завдання (%)	Складність (P-value)	Дискримінація (D-index)	Кореляція (Rit)
	А	Б	В	Г				
В	40,47	11,75	37,88	7,43	2,46	37,88	49,26	0,40

47. Прочитайте уривок із праці М. Грушевського та виконайте завдання.

«У тих землях, що одійшли до Австрії, нове правительство австрійське заходилося коло того, щоб поліпшити долю кріпаків українських, обмежити безмежну владу польських панів над ними».

Чим зумовлені зазначені урядові заходи?

- А реформами Марії-Терезії та Йосифа II 1770-х – 1780-х рр.
- Б Польським повстанням 1830–1831 рр.
- В революцією 1848–1849 рр. в Австрійській імперії
- Г Польським національно-визвольним повстанням 1863–1864 рр.

Ключ	Відповіді учасників (%)				Не виконали завдання (%)	Складність (P-value)	Дискримінація (D-index)	Кореляція (Rit)
	А	Б	В	Г				
А	37,29	12,82	34,00	13,48	2,41	37,29	59,77	0,47

48. Вагомим прикладом активної громадсько-політичної діяльності Головної руської ради в 1848–1851 рр. є

- А заснування першого просвітницького товариства греко-католицьких священиків, видання «Русалки Дністрової».
- Б видання «Зорі Галицької», відкриття кафедри української мови і літератури у Львівському університеті.
- В проведення Слов'янського з'їзду в Празі, започаткування «нової ери» в українсько-польських відносинах.
- Г створення товариства «Просвіта» та Наукового товариства ім. Т. Шевченка.

Ключ	Відповіді учасників (%)				Не виконали завдання (%)	Складність (P-value)	Дискримінація (D-index)	Кореляція (Rit)
	А	Б	В	Г				
Б	21,22	33,15	17,26	25,84	2,52	33,15	32,25	0,31

49. Про заснування якого навчального закладу йдеться в уривку з історичного джерела:

«Місцем його заснування було обрано місто.., де вперше засяло й звідси розлилося по всій Давній Русі світло істинної [християнської] віри. Заснований університет, названий... на честь великого просвітителя Русі, удостоєний прийняттям під особливе покровительство Його імператорської величності...»?

- А Новоросійського університету
- Б Чернівецького університету
- В Харківського університету
- Г Київського університету

Ключ	Відповіді учасників (%)				Не виконали завдання (%)	Складність (P-value)	Дискримінація (D-index)	Кореляція (Rit)
	А	Б	В	Г				
Г	9,83	7,94	15,98	63,79	2,46	63,79	50,51	0,37

50. У 1863 р. царською владою ухвалено розпорядження, що ввійшло в історію під назвою

- А «Емський указ».
- Б «Жалувана грамота».
- В «Валуєвський циркуляр».
- Г «Столипінський циркуляр».

Ключ	Відповіді учасників (%)				Не виконали завдання (%)	Складність (P-value)	Дискримінація (D-index)	Кореляція (Rit)
	А	Б	В	Г				
В	40,19	6,58	44,27	6,41	2,56	44,27	48,17	0,38

51. Діячі якого суспільного руху були ініціаторами відкриття «Південно-Західного відділу Російського географічного товариства»?

- А радикального
- Б народовського
- В громадівського
- Г москвофільського

Ключ	Відповіді учасників (%)				Не виконали завдання (%)	Складність (P-value)	Дискримінація (D-index)	Кореляція (Rit)
	А	Б	В	Г				
В	19,25	19,57	23,04	35,57	2,58	23,04	13,06	0,2

52. Про яке соціально-економічне явище йдеться в уривку з історичного джерела: «Нужда галицька так надоїла нашим людям, що і в пекло не бояться йти, щоб лише втекти з рідного краю... Пішов голос про Бразилію. Незнаний цей край, далекий, але народ не зважав, не роздумував довго: утекти з неволі – це єдиний вихід»?

- А промисловий переворот
- Б аграрний переворот
- В кооперативний рух
- Г трудова еміграція

Ключ	Відповіді учасників (%)				Не виконали завдання (%)	Складність (P-value)	Дискримінація (D-index)	Кореляція (Rit)
	А	Б	В	Г				
Г	10,08	11,08	11,79	64,49	2,56	64,49	60,58	0,43

53. На фото зображено будівлю



- А банку «Дністер».
- Б Київського університету.
- В Полтавського земства.
- Г резиденції митрополита Буковини в Чернівцях.

Ключ	Відповіді учасників (%)				Не виконали завдання (%)	Складність (P-value)	Дискримінація (D-index)	Кореляція (Rit)
	А	Б	В	Г				
В	17,70	16,19	34,13	29,26	2,72	34,13	34,45	0,28

54. Установіть відповідність між подією, описаною в уривку з історичного джерела, та іменем князя, який був до неї причетний.

- | | | | |
|---|--|---|-------------------|
| 1 | <i>«...віддав Корсунь грекам як викуп за царицю, а сам повернувся в Київ...»</i> | А | Олег |
| 2 | <i>«...І мовив... Аскольдові та Дірові: “Ви оба не є князі. Ні роду княжого. Я є роду княжого.” – “А се – син Рюриків...”»</i> | Б | Ігор |
| 3 | <i>«Із города Іскоростеня вийшли проти нього древляни й убили [його] і дружину його, бо було їх мало...»</i> | В | Святослав |
| 4 | <i>«Сказав... матері своїй і боярам своїм: “Не люблю мені в Києві жити, хочу жити в Переяславці на Дунаї”...»</i> | Г | Володимир Великий |
| | | Д | Ярослав Мудрий |

Ключ	Розподіл учасників (%) за кількістю набраних балів					Складність (P-value)	Дискримінація (D-index)	Кореляція (Rit)
	0	1	2	3	4			
ГАБВ	26,41	25,59	18,15	12,68	17,17	42,15	60,87	0,63

55. Установіть відповідність між подією та роком, коли вона відбулася.

- | | | | |
|---|---|---|---------|
| 1 | оприлюднення царського указу про закріпачення селян Лівобережної та Слобідської України | А | 1710 р. |
| 2 | остаточна ліквідація гетьманства | Б | 1764 р. |
| 3 | остаточна ліквідація царським урядом Запорозької Січі | В | 1775 р. |
| 4 | ухвалення Конституції Пилипа Орлика | Г | 1783 р. |
| | | Д | 1785 р. |

Ключ	Розподіл учасників (%) за кількістю набраних балів					Складність (P-value)	Дискримінація (D-index)	Кореляція (Rit)
	0	1	2	3	4			
ГБВА	36,77	27,65	18,42	5,64	11,52	31,87	43,05	0,54


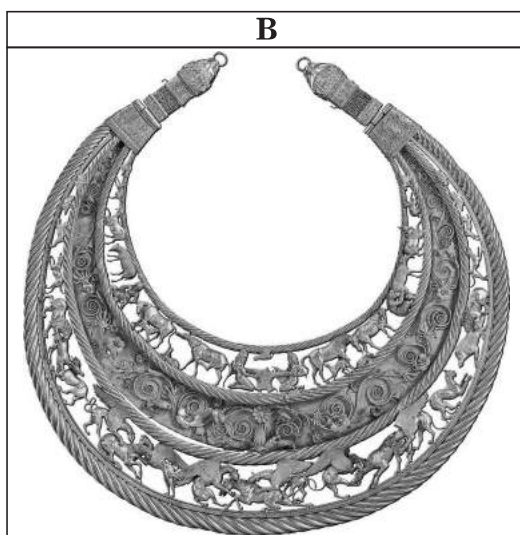
56. Установіть відповідність між виданням та його характеристикою.

- | | |
|---|--|
| <p>1 «Самостійна Україна»</p> <p>2 «Історія русів»</p> <p>3 «Основа»</p> <p>4 «Громада»</p> | <p>А перший український суспільно-політичний і літературно-мистецький журнал, що видавався українською петербурзькою громадою в 1861–1862 рр.</p> <p>Б український громадсько-політичний і науково-літературний збірник, що видавався в Женеві М. Драгомановим у період 1878–1879 рр. та в 1882 р.</p> <p>В одна з найвизначніших пам'яток української історичної та суспільно-політичної думки другої половини XVIII – початку XIX ст., у якій обстоювалася ідея самостійного державного розвитку України</p> <p>Г публіцистичний твір, написаний у 1900 р. М. Міхновським як програма Револьюційної української партії</p> <p>Д щомісячний історико-етнографічний та літературний часопис, що видавався в Києві російською й українською мовами протягом 1882–1906 рр.</p> |
|---|--|

Ключ	Розподіл учасників (%) за кількістю набраних балів					Складність (P-value)	Дискримінація (D-index)	Кореляція (Rit)
	0	1	2	3	4			
ГВАБ	36,75	28,61	21,30	7,00	6,34	29,39	33,66	0,48

57. Розташуйте археологічні пам'ятки, зображені на фото, за часом їх створення.





Ключ	Розподіл учасників (%) за кількістю набраних балів				Складність (P-value)	Дискримінація (D-index)	Кореляція (Rit)
	0	1	2	3			
ГАВБ	15,43	50,41	8,51	25,64	48,12	48,17	0,50

58. Установіть послідовність перебування при владі гетьманів.

- А** Іван Скоропадський
- Б** Іван Мазепа
- В** Іван Брюховецький
- Г** Іван Виговський

Ключ	Розподіл учасників (%) за кількістю набраних балів				Складність (P-value)	Дискримінація (D-index)	Кореляція (Rit)
	0	1	2	3			
ГВБА	49,63	32,51	4,20	13,66	27,30	41,45	0,50

59. Укажіть наслідки битви на річці Сині Води (1362 р.).

- 1** посилення утисків православного населення в межах Великого князівства Литовського
- 2** ліквідація удільного устрою українських земель у складі Великого князівства Литовського
- 3** суттєве послаблення політичного впливу в Золотій Орді татарських орд, що кочували на захід від Дніпра
- 4** ліквідація васальної залежності Галицько-Волинської держави від Золотої Орди
- 5** значна частина українських земель увійшла до складу Великого князівства Литовського
- 6** територіальні межі Золотої Орди було відсунуто в пониззя Дністра й Південного Бугу, а на Дніпрі – до порогів
- 7** укладення польсько-литовської міждинастичної Кревської унії

Ключ	Розподіл учасників (%) за кількістю набраних балів				Складність (P-value)	Дискримінація (D-index)	Кореляція (Rit)
	0	1	2	3			
356	10,36	38,67	44,91	6,05	48,89	18,56	0,28

60. Які соціально-економічні зміни відбувалися на українських землях у складі Російської імперії в другій половині XVIII ст.?

- 1** скасування общинного землеволодіння
- 2** запровадження кріпацтва
- 3** початок промислового перевороту
- 4** поширення дворянського землеволодіння на землі Вольностей Війська Запорозького Низового
- 5** ліквідація фільваркового господарства
- 6** ліквідація чумацьких промислів
- 7** зрівняння в правах козацької старшини з російським дворянством

Ключ	Розподіл учасників (%) за кількістю набраних балів				Складність (P-value)	Дискримінація (D-index)	Кореляція (Rit)
	0	1	2	3			
247	16,23	39,16	36,03	8,58	45,66	22,09	0,31